

ex. 1 : Qui suis-je ? 1. Je ne suis pas un triangle. 2. Je ne suis pas un parallélogramme. 3. J'ai moins de six côtés.

J'élimine : Je suis :

ex. 2 : Qui suis-je ? 1. Je suis un polygone. 2. Je suis un quadrilatère qui comporte quatre angles droits. 3. Tous mes côtés ont la même longueur.

J'élimine : Je suis :

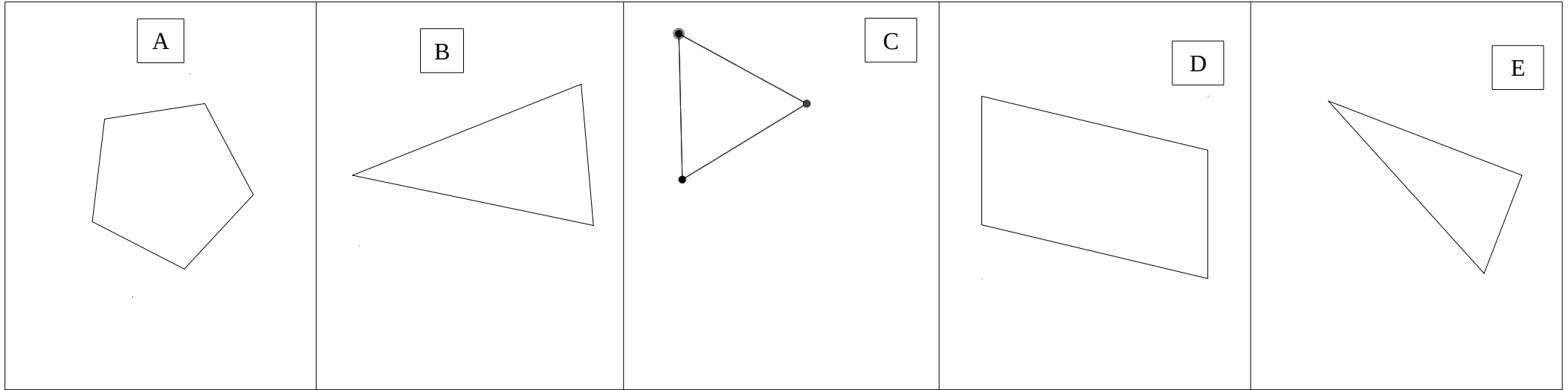
ex. 3 : Qui suis-je ? 1. Je ne suis pas un quadrilatère. 2. Je n'ai pas d'angle droit. 3. Deux de mes côtés sont de même longueur.

J'élimine : Je suis :

ex. 4 : Qui suis-je ? 1. Mes côtés sont parallèles deux à deux. 2. Mes diagonales se coupent en leur milieu. 3. Mes diagonales sont perpendiculaires.

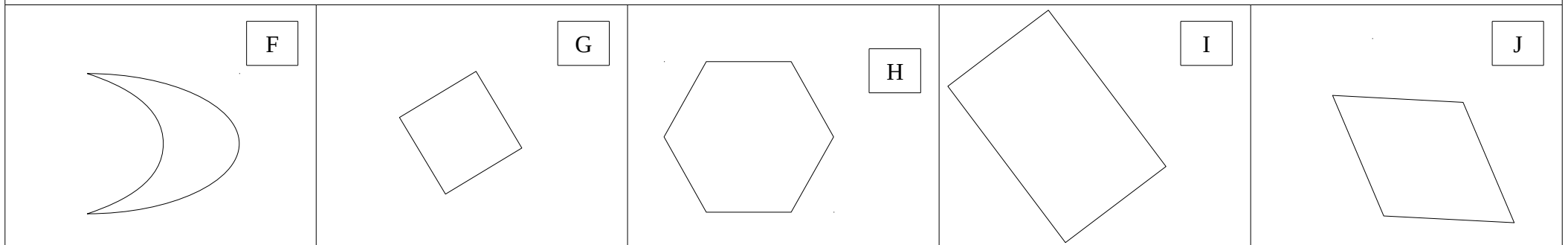
J'élimine : Je suis :

Polygone		Polygone		Polygone	
Quadrilatère		Quadrilatère		Quadrilatère	
2 côtés de même longueur uniquement		2 côtés de même longueur uniquement		2 côtés de même longueur uniquement	
Tous les côtés de même longueur		Tous les côtés de même longueur		Tous les côtés de même longueur	
Côtés de même longueur 2 à 2		Côtés de même longueur 2 à 2		Côtés de même longueur 2 à 2	
2 côtés parallèles		2 côtés parallèles		2 côtés parallèles	
Côtés parallèles 2 à 2		Côtés parallèles 2 à 2		Côtés parallèles 2 à 2	
1 angle droit		1 angle droit		1 angle droit	
4 angles droits		4 angles droits		4 angles droits	
Un ou plusieurs axes de symétrie		Un ou plusieurs axes de symétrie		Un ou plusieurs axes de symétrie	
Diagonales qui se croisent en leur milieu		Diagonales qui se croisent en leur milieu		Diagonales qui se croisent en leur milieu	
Diagonales de même longueur		Diagonales de même longueur		Diagonales de même longueur	
Diagonales perpendiculaires		Diagonales perpendiculaires		Diagonales perpendiculaires	
Nom de la figure		Nom de la figure		Nom de la figure	



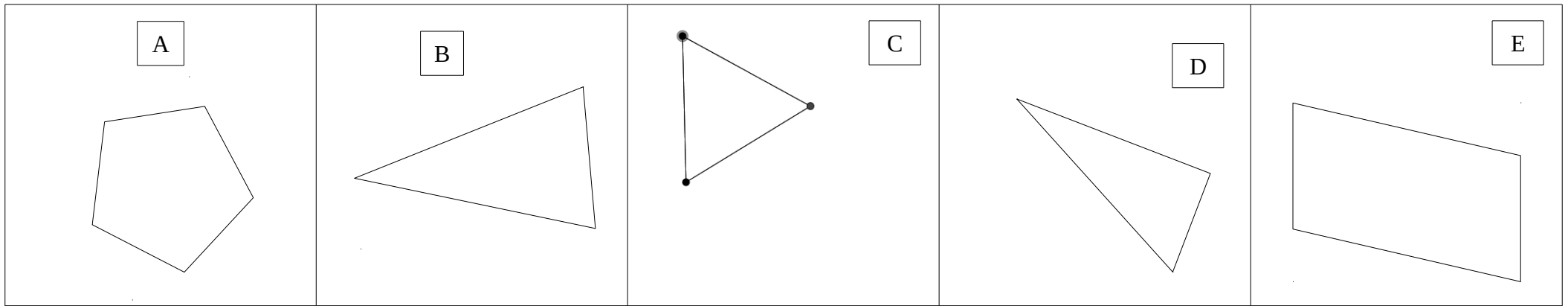
ex. 1 : Qui suis-je ? 1. Je ne suis pas un triangle. 2. Je ne suis pas un parallélogramme. 3. J'ai moins de six côtés.

J'élimine : Je suis :



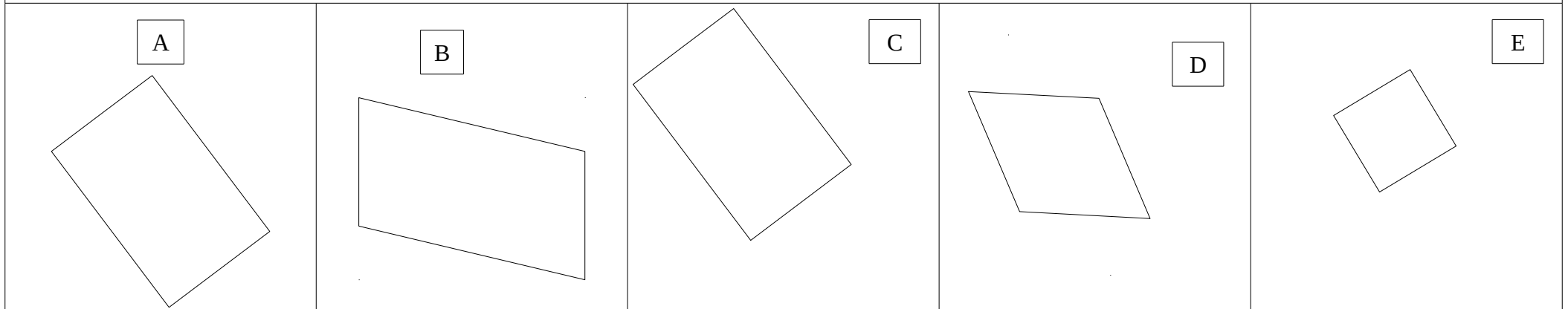
ex. 2 : Qui suis-je ? 1. Je suis un polygone. 2. Je suis un quadrilatère qui comporte quatre angles droits. 3. Tous mes côtés ont la même longueur.

J'élimine : Je suis :



ex. 3 : Qui suis-je ? 1. Je ne suis pas un quadrilatère. 2. Je n'ai pas d'angle droit. 3. Deux de mes côtés sont de même longueur.

J'élimine : Je suis :



ex. 4 : Qui suis-je ? 1. Mes côtés sont parallèles deux à deux. 2. Mes diagonales se coupent en leur milieu. 3. Mes diagonales sont perpendiculaires.

J'élimine : Je suis :

