

ex. 1 : Qui suis-je ? 1. Je suis un polygone. 2. Tous mes côtés n'ont pas la même longueur. 3. Je ne suis pas un parallélogramme.

J'élimine : Je suis :

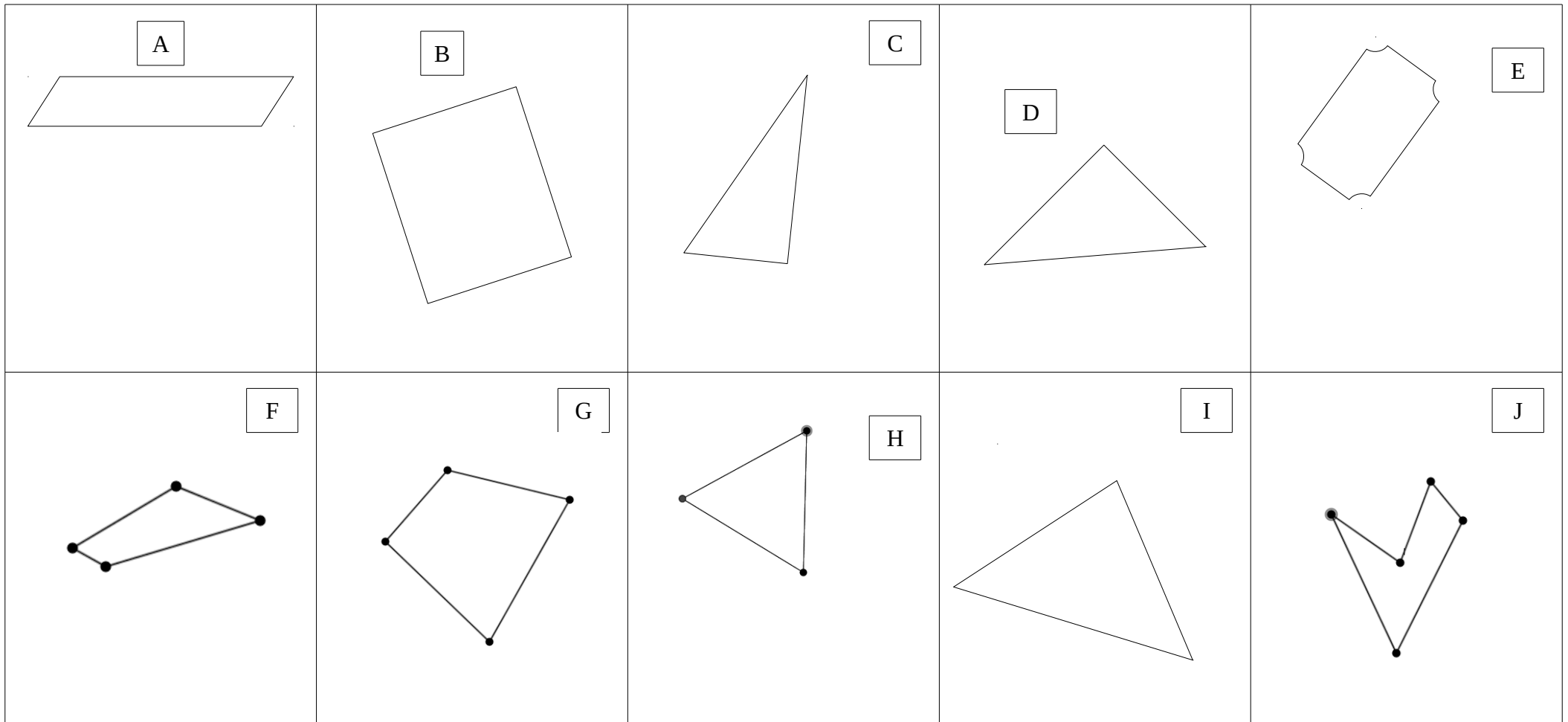
ex. 2 : Qui suis-je ? 1. Mes diagonales se coupent en leur milieu mais ne sont pas perpendiculaires. 2. Mes côtés sont de même longueur 2 à 2. 3. Je n'ai aucun angle droit.

J'élimine : Je suis :

ex. 3 : Qui suis-je ? 1. Je ne suis pas un quadrilatère. 2. Tous mes côtés sont de même longueur. 3. J'ai trois axes de symétrie.

J'élimine : Je suis :

Polygone		Polygone		Polygone	
Quadrilatère		Quadrilatère		Quadrilatère	
2 côtés de même longueur uniquement		2 côtés de même longueur uniquement		2 côtés de même longueur uniquement	
Tous les côtés de même longueur		Tous les côtés de même longueur		Tous les côtés de même longueur	
Côtés de même longueur 2 à 2		Côtés de même longueur 2 à 2		Côtés de même longueur 2 à 2	
2 côtés parallèles		2 côtés parallèles		2 côtés parallèles	
Côtés parallèles 2 à 2		Côtés parallèles 2 à 2		Côtés parallèles 2 à 2	
1 angle droit		1 angle droit		1 angle droit	
4 angles droits		4 angles droits		4 angles droits	
Un ou plusieurs axes de symétrie		Un ou plusieurs axes de symétrie		Un ou plusieurs axes de symétrie	
Diagonales qui se croisent en leur milieu		Diagonales qui se croisent en leur milieu		Diagonales qui se croisent en leur milieu	
Diagonales de même longueur		Diagonales de même longueur		Diagonales de même longueur	
Diagonales perpendiculaires		Diagonales perpendiculaires		Diagonales perpendiculaires	
Nom de la figure		Nom de la figure		Nom de la figure	



ex. 1 : Qui suis-je ? 1. Je ne suis pas un parallélogramme. 2. Je suis un polygone. 3. Seulement deux de mes côtés ont la même longueur.

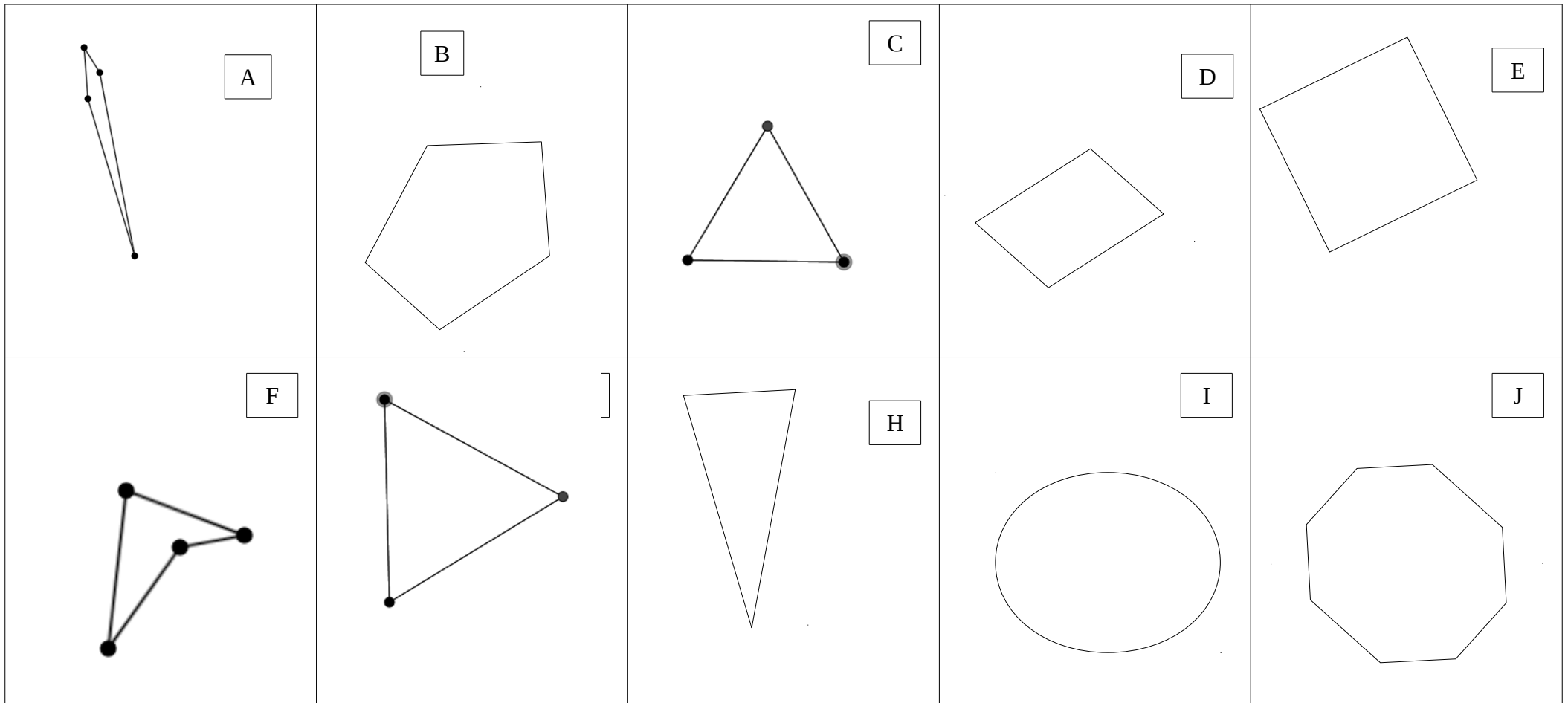
J'élimine : Je suis :

ex. 2 : Qui suis-je ? 1. Je suis un quadrilatère. 2. Je n'ai pas d'axe de symétrie. 3. Aucun de mes côtés n'est parallèle à un autre.

J'élimine : Je suis :

ex. 3 : Qui suis-je ? 1. J'ai plusieurs axes de symétrie. 2. Mes diagonales se coupent en leur milieu. 3. Mes côtés sont de même longueur 2 à 2.

J'élimine : Je suis :



ex. 1 : Qui suis-je ? 1. Je suis un polygone. 2. Tous mes côtés n'ont pas la même longueur. 3. Je ne suis pas un parallélogramme.

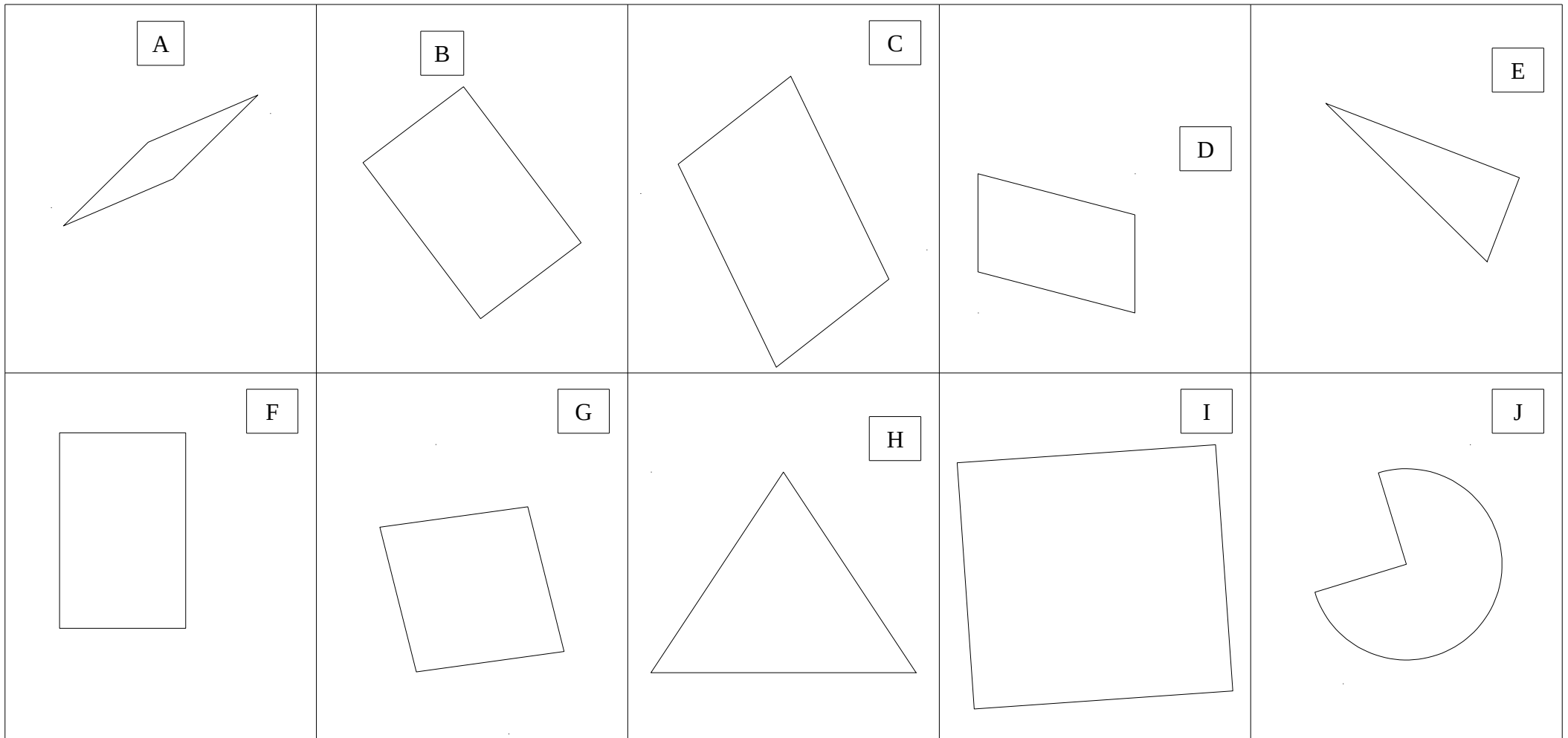
J'élimine : Je suis :

ex. 2 : Qui suis-je ? 1. Mes diagonales se coupent en leur milieu mais ne sont pas perpendiculaires. 2. Mes côtés sont de même longueur 2 à 2. 3. Je n'ai aucun angle droit.

J'élimine : Je suis :

ex. 3 : Qui suis-je ? 1. Je ne suis pas un quadrilatère. 2. Tous mes côtés sont de même longueur. 3. J'ai trois axes de symétrie.

J'élimine : Je suis :



ex. 1 : Qui suis-je ? 1. J'ai un angle droit. 2. Je ne suis pas un parallélogramme. 3. Je ne suis pas un quadrilatère. 4. Je suis un polygone.

J'élimine : Je suis :

ex. 2 : Qui suis-je ? 1. Mes côtés sont parallèles deux à deux. 2. Je n'ai aucun angle droit. 3. Mes côtés ont tous la même longueur.

J'élimine : Je suis :

ex. 3 : Quis-je ? 1. Je suis un polygone. 2. J'ai plusieurs axes de symétrie. 3. Je ne suis pas un losange. 4. Mes diagonales ne sont pas perpendiculaires.

J'élimine : Je suis :

